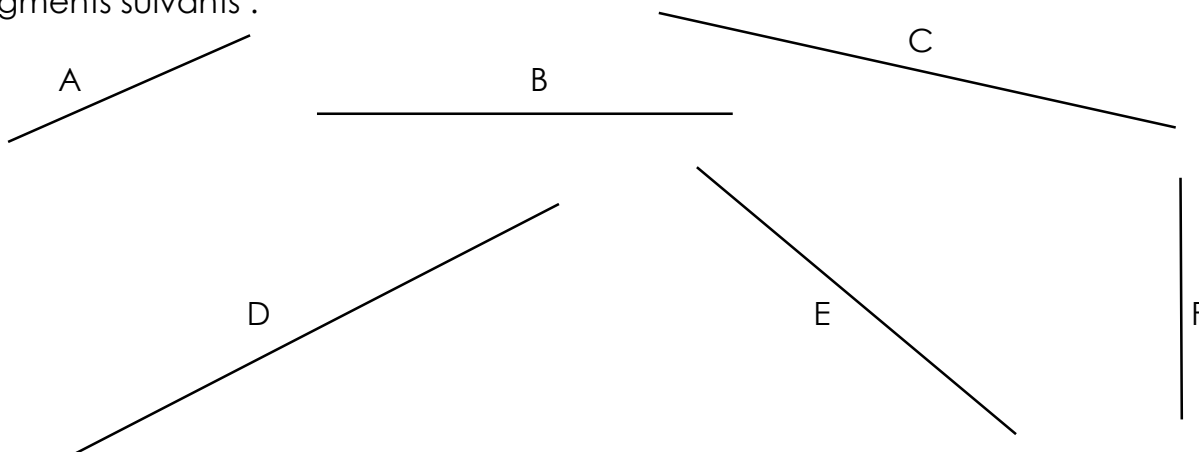


Prénom :

Date :

| | |
|---|---|
|  | <h2 style="margin: 0;">LES LONGUEURS <small>(02)</small></h2> <h3 style="margin: 0;">Exercices</h3> |
|---|---|

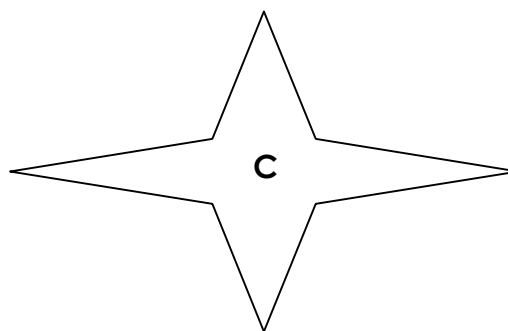
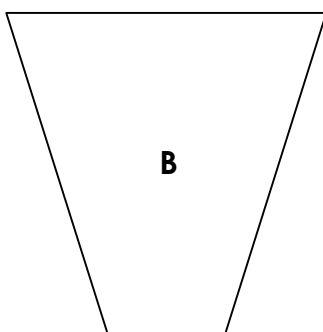
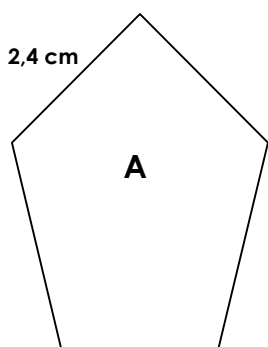
1./ Sans utiliser de règle graduée, trouve quel est le plus petit et le plus grand des segments suivants :



- Le segment le plus court est le segment
- Le segment le plus long est le segment
- Deux segments sont de même mesure. Ce sont les segments et
- Vérifie tes réponses à l'aide d'une règle graduée.
- Reporte la mesure de ces segments dans le tableau ci-dessous en suivant l'exemple :

| A | B | C | D | E | F |
|------------------|-------|-------|-------|-------|-------|
| 3 cm 5 mm | | | | | |
| 3,5 cm | | | | | |

2./ Mesure et indique la longueur de chacun des côtés de ces figures et calcule leurs périmètres :



| A | B | C |
|--|---|---|
| <p>2,4 +</p> <p>.....</p> <p>=</p> | <p>.....</p> <p>.....</p> <p>=</p> | <p>.....</p> <p>.....</p> <p>=</p> |