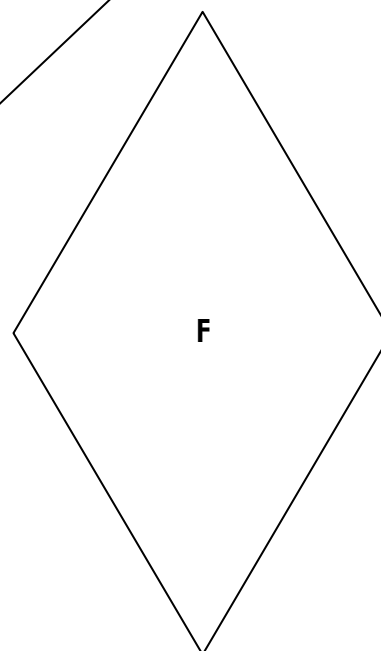
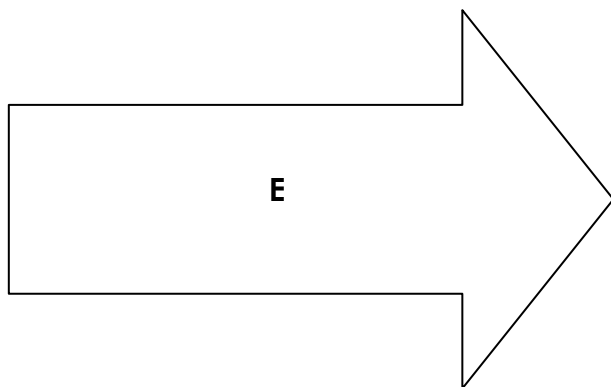
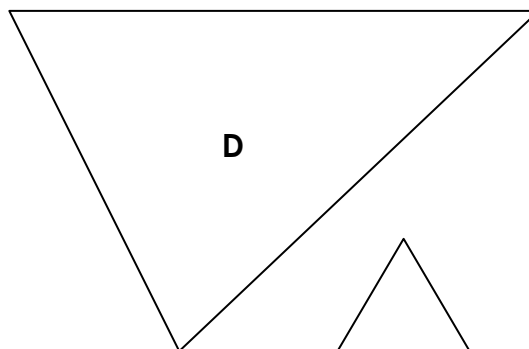
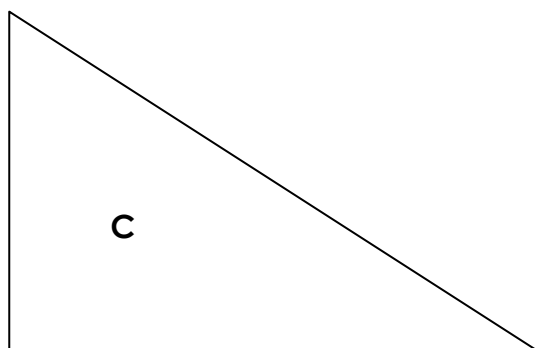

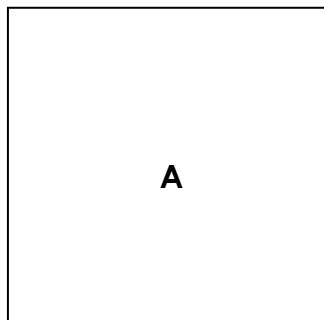


Prénom : .....

Date : .....

	<b>LES AIRES</b> <small>(08)</small> Exercices
---	---

1./ Note les mesures en cm de chaque côté des figures suivantes :



2./ Calcule le périmètre (en cm) et l'aire (en cm<sup>2</sup>) de ces figures (Trace et mesure les hauteurs de certaines figures si nécessaire...) :

	<b>Périmètres</b>	<b>Aires</b>
<b>A</b>	.....	.....
<b>B</b>	.....	.....
<b>C</b>	.....	.....
<b>D</b>	.....	.....
<b>E</b>	.....	.....
<b>F</b>	.....	.....