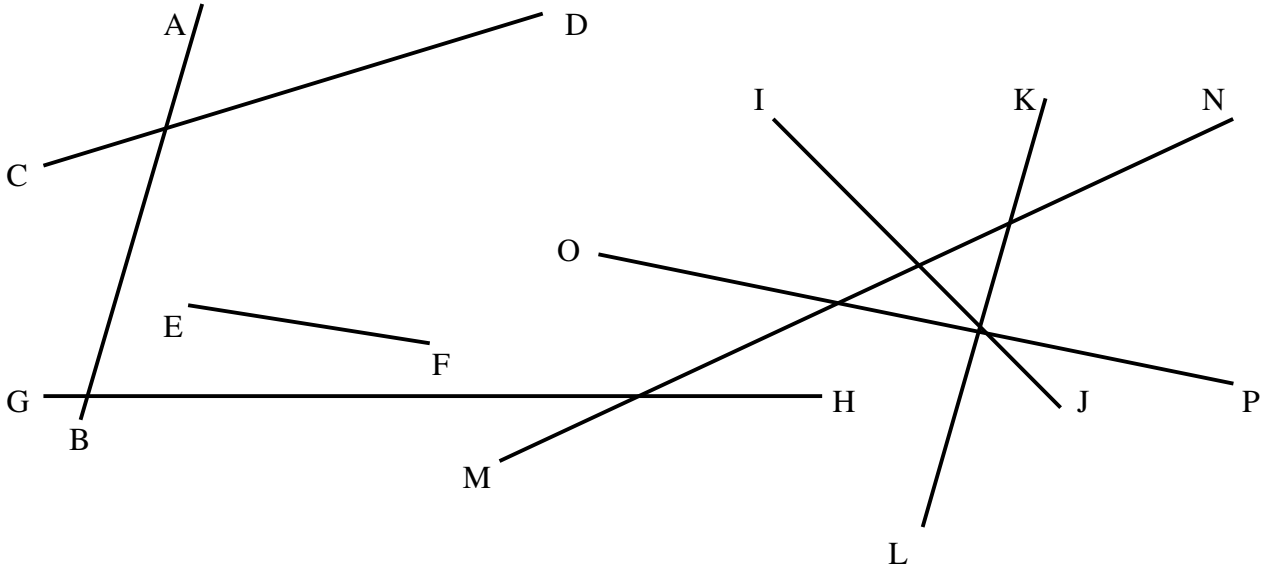




MESURE DE LONGUEURS (06)

Utilisation d'une règle graduée

1./ Mesure chacun des segments ci-dessous et exprime leur longueur en cm et en mm :



[AB] = 5 cm 7 mm = 57 mm

[EF] = cm mm = mm

[IJ] = cm mm = mm

[MN] = cm mm = mm

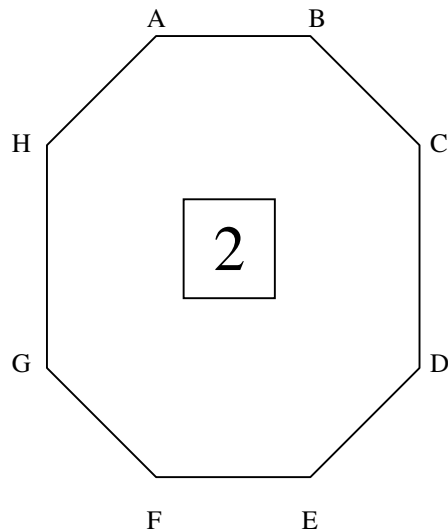
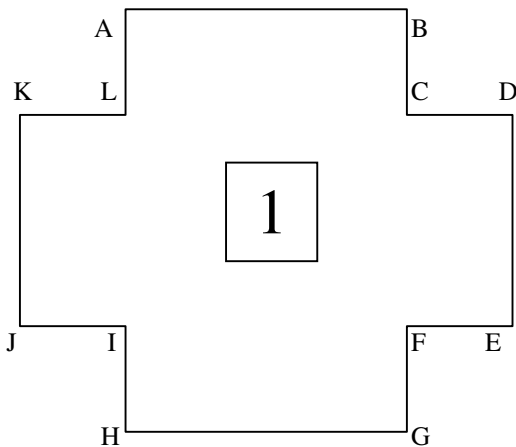
[CD] = cm mm = mm

[GH] = cm mm = mm

[KL] = cm mm = mm

[OP] = cm mm = mm

2./ Mesure chacun des côtés des figures ci-dessous puis calcule leurs périmètres en cm et en mm :



Périmètre de la figure 1 :

.....

Périmètre de la figure 2 :

.....

