

Prénom :

Date :

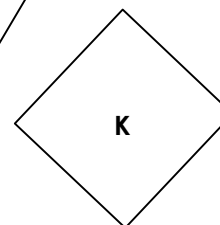
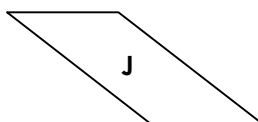

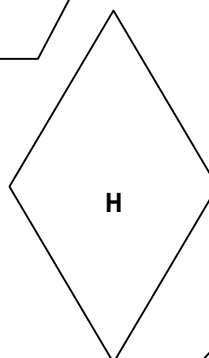
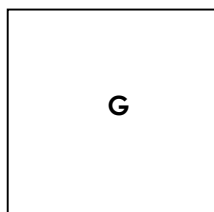
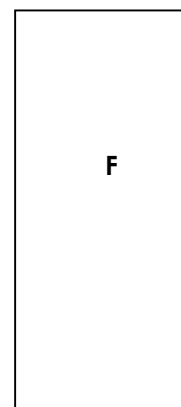
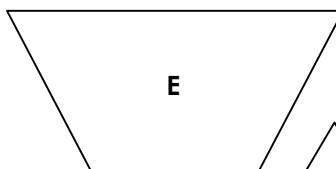
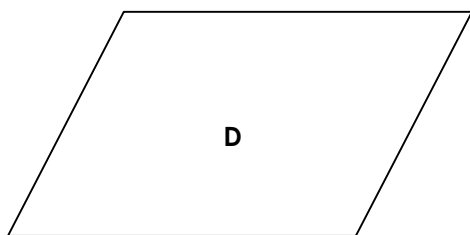
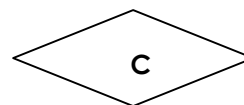
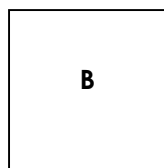
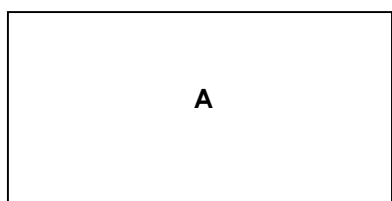


GÉOMÉTRIE

Les quadrilatères (01)

• **Les figures géométriques à 4 côtés et 4 sommets : les quadrilatères**

Noms de la figure	Particularités
Le carré	4 côtés égaux et 4 angles droits
Le rectangle	Côtés égaux 2 à 2 et 4 angles droits
Le losange	4 côtés égaux mais pas d'angle droit
Le parallélogramme	Côtés égaux 2 à 2 mais pas d'angle droit
Le trapèze	2 côtés parallèles



• **Complète le tableau suivant (avec des O pour « oui » et des N pour « non ») :**

LES CÔTÉS	A	B	C	D	E	F	G	H	I	J	K
4 côtés égaux	N	O									
4 côtés égaux 2 à 2	O	O								O	
4 côtés parallèles 2 à 2	O	O		O							
2 côtés parallèles	N	N									

LES ANGLES	A	B	C	D	E	F	G	H	I	J	K
4 angles droits	O	O									
4 angles égaux 2 à 2	O	O						O			

• **Quelle est la nature de ces figures ?**

carré	rectangle	losange	parallélogramme	trapèze
B -	A -