

Prénom : .....

Date : .....

**REPRODUIRE**




# REPRODUIRE PAR SYMÉTRIE

La symétrie axiale (04)

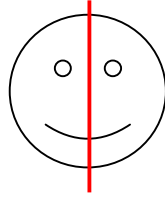
• **Rappel :**

On dit qu'une figure a un **axe de symétrie** si, lorsqu'on plie le long de cet axe, les deux parties pliées se superposent parfaitement.

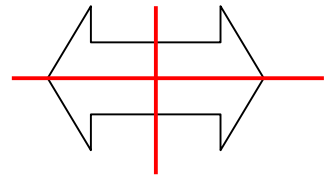
Certaines figures géométriques peuvent avoir plusieurs axes de symétrie.



**Pas d'axe de symétrie**

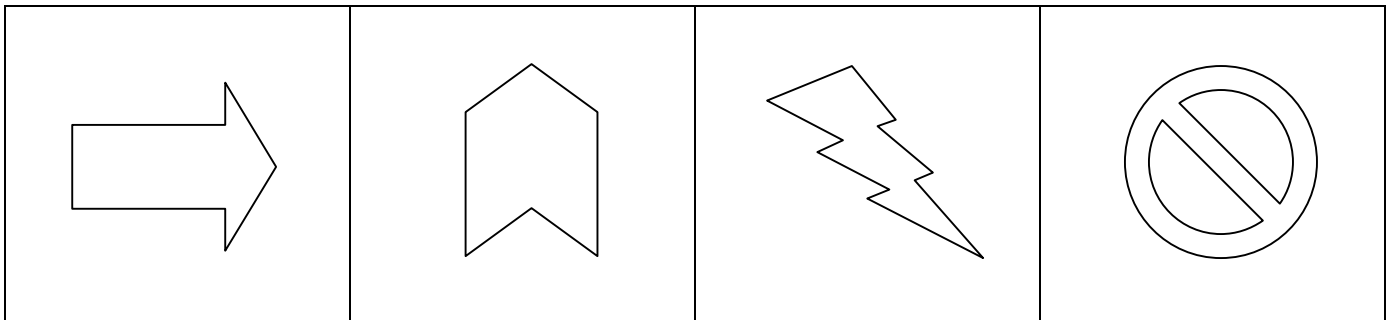
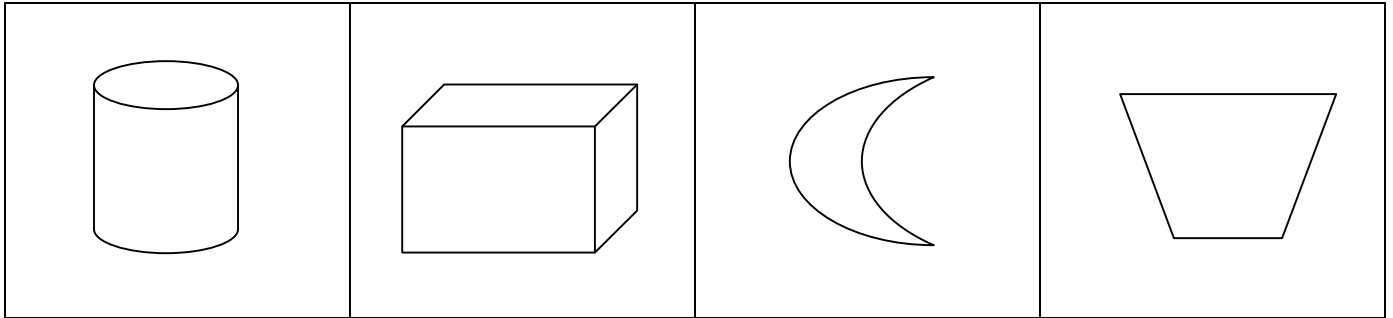


**1 axe de symétrie**




**2 axes de symétrie**


• Trace les axes de symétrie des dessins suivants :



• Trace les axes de symétrie des figures suivantes :



2 axes de symétrie



4 axes de symétrie