

Prénom : .....

Date : .....



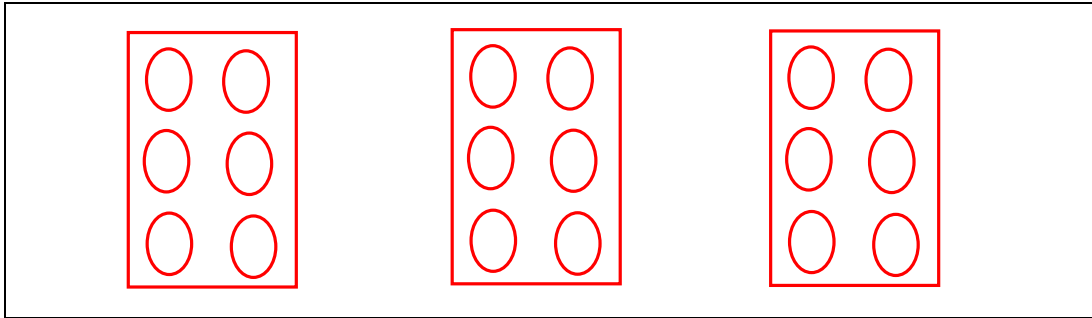
# Résoudre des problèmes

Quelle opération choisir ? (02)

- Résous les problèmes suivants :

1./ Madame Poulette a acheté 3 boîtes contenant 6 œufs chacune.

- Dessine rapidement les boîtes à œufs :



- Combien d'œufs y a-t-il en tout ? (Entoure la ou les bonnes opérations)

$3 + 6$

$3 \times 6$

$6 + 6 + 6$

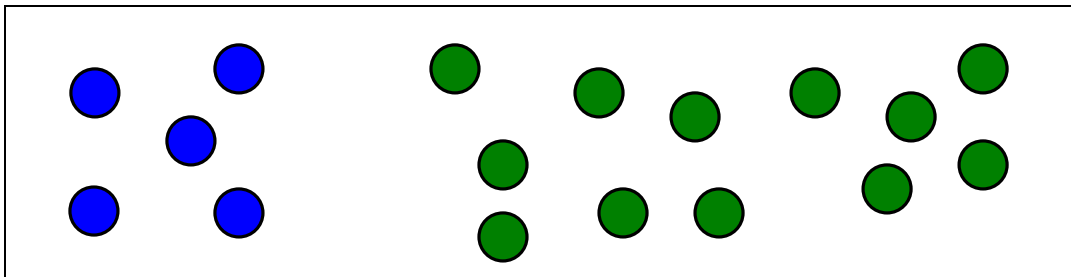
$6 \times 3$

$6 + 3$

Madame Poulette a acheté 18 œufs en tout.

2./ Mathias à 5 billes bleues et 12 billes vertes.

- Dessine rapidement les billes de Mathias :



- Combien a-t-il de billes en tout ? (Entoure la ou les bonnes opérations)

$12 + 5$

$5 \times 12$

$12 + 12 + 12 + 12 + 12$

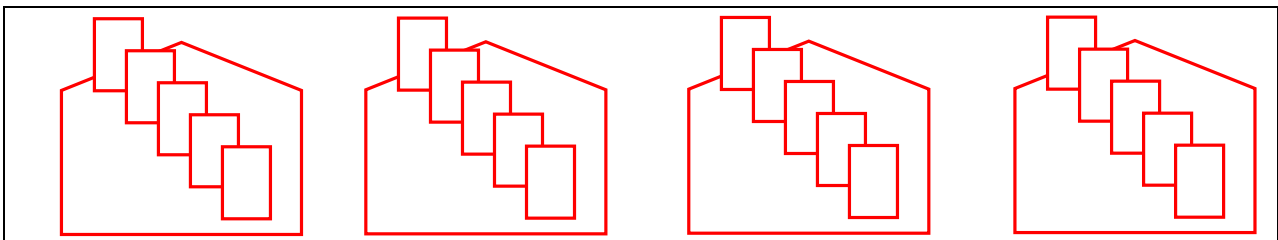
$12 \times 5$

$5 + 12$

Mathias possède 17 billes.

3./ Fanny achète 4 pochettes contenant 5 vignettes autocollantes pour son album.

- Dessine rapidement les pochettes à vignettes :



- Combien Fanny a-t-elle de vignettes ? (Entoure la ou les bonnes opérations)

$4 + 5$

$5 \times 4$

$5 + 5 + 5 + 5$

$4 + 4 + 4 + 4$

$5 + 4$

$4 \times 5$

Fanny possède 20 vignettes.