

Prénom :

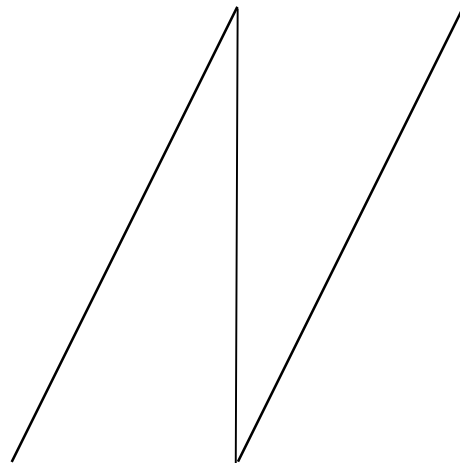

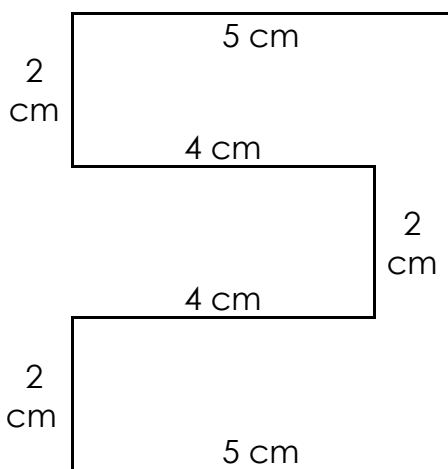
Date :



LES LONGUEURS

Les unités de longueur – Exercices (08)

1./ Mesure les lignes brisées suivantes comme sur l'exemple :



A	B	C
$2 + 2 + 2 + 4 + 4 + 5 + 5 =$ $(3 \times 2) + (2 \times 4) + (2 \times 5) =$ $6 + 8 + 10 = 24$		
A = 24 cm et 0 mm	B = cm et mm	C = cm et mm

- Quelle est la plus longue des trois lignes brisées ?

2./ Prolonge ces segments afin d'obtenir la longueur demandée :

