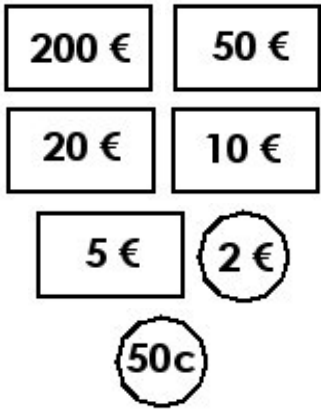







Prénom :









Date :

| | |
|---|--|
|  | <h1 style="margin: 0;">LA MONNAIE</h1> <p style="margin: 0;">Les euros (€) <small>(08)</small></p> |
|---|--|

1./ Dessine les pièces et les billets afin de réaliser les sommes suivantes : (utilise le moins de billet et de pièce possible)

| | | |
|---|--|---|
|  <p style="margin-top: 10px;">287 € et 50 cts</p> |  <p style="margin-top: 10px;">405 € et 50 cts</p> |  <p style="margin-top: 10px;">863 €</p> |
|  <p style="margin-top: 10px;">278,60 €</p> |  <p style="margin-top: 10px;">505 €</p> |  <p style="margin-top: 10px;">753,75 €</p> |

2./ En utilisant le moins de billets et de pièces possible, complète le tableau suivant :

| | Les euros |  |  |  |  |  |  |  |  |
|-----------------------------|-----------|---|---|---|--|---|---|---|---|
| Les articles | | 100 € | 50 € | 20 € | 10 € | 5 € | 2 € | 1 € | 50 cts |
| - une télévision : 248 € | | 2 | | 2 | | 1 | 1 | 1 | |
| - un ordinateur : 699 € | | 6 | 1 | 2 | | 1 | 2 | | |
| - un téléphone : 49,50 € | | | | 2 | | 1 | 2 | | 1 |
| - un jeu vidéo : 37,5 € | | | | 1 | 1 | 1 | 1 | | 1 |
| - un CD de musique : 9,50 € | | | | | | 1 | 2 | | 1 |
| - une mini-chaîne : 365 € | | 3 | 1 | | 1 | 1 | | | |