

Prénom :

Date :




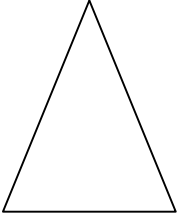
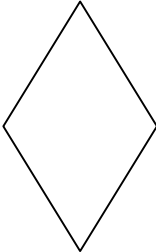
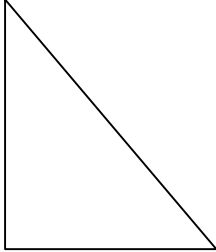
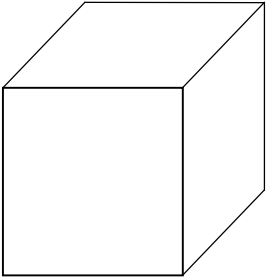
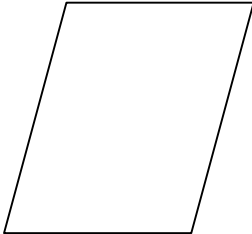
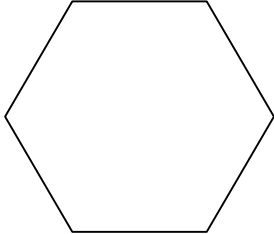
GÉOMÉTRIE



GÉOMÉTRIE

Les bases : les figures simples... (03)

- Ecris le nom de ces 9 figures géométriques :

		
un carré	un cercle	un rectangle
		
un triangle isocèle	un losange	un triangle rectangle
		
un cube	un parallélogramme	un hexagone

un cube	un triangle rectangle	un parallélogramme
un triangle isocèle	un hexagone	un losange
un carré	un cercle	un rectangle

- Quelles sont les caractéristiques des figures suivantes :

Le carré : 4 côtés dont 4 côtés égaux et 4 angles droits

Le triangle isocèle : 3 côtés dont 2 côtés sont égaux

L'hexagone : 6 côtés dont 6 côtés sont égaux

Le rectangle : 4 côtés égaux 2 à 2 et 4 angles droits