
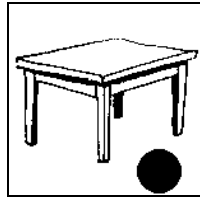


REPÉRAGE – L'espace (08)

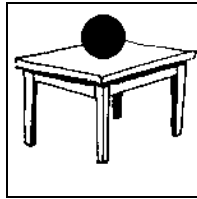
• Observe les dessins suivants puis réponds aux questions :



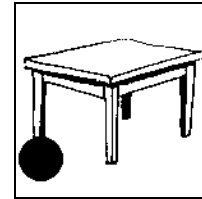
A



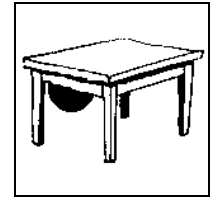
B



C



D



E

1./ Dans quel dessin le ballon se trouve **sur** la table ?

2./ Dans quel dessin le ballon se trouve **sous** la table ?

3./ Dans quel dessin le ballon se trouve **devant** la table ?

4./ Dans quel dessin le ballon se trouve **derrière** la table ?

5./ Dans quel dessin le ballon se trouve **à côté** de la table ?

• Observe les empilements suivants puis réponds aux questions :



1



2



3



4



5

1./ Dans quel empilement le cube **E** est à droite du cube **C** ?

2./ Dans quel empilement le cube **D** est le plus haut ?

3./ Dans quel empilement le cube **A** est dans la rangée du bas ?

4./ Dans quel empilement le cube **B** est entre les cubes **F** et **E** ?