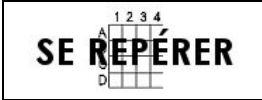


Prénom :

Date :




REPÉRAGE – L'espace (07)

- Observe le tableau suivant puis réponds aux questions :

1./ Quel est le symbole situé **juste à droite** du symbole ?



2./ Quel est le symbole situé **juste à gauche** du symbole ?




3./ Quel est le symbole situé **en bas** du symbole ?



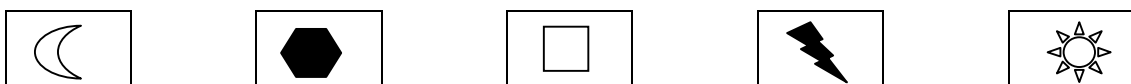
4./ Quel est le symbole situé **en haut** du symbole ?




5./ Quel est le symbole situé **en haut à droite** du symbole ?



6./ Quel est le symbole situé **en bas à gauche** du symbole ?



7./ Quel est le symbole situé **2 cases en dessous et 1 case à droite** du symbole ?



8./ Quel est le symbole situé **1 case à gauche et 2 cases au-dessus** du symbole ?

