

REPÉRAGE – L'espace (06)

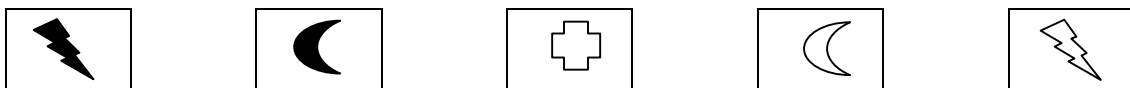
- Observe le tableau suivant puis réponds aux questions :

		♥	▲			
	😊	■	+		⬡	□
♥	☀	⬡	⊘		☾	
	+		◻	⚡	△	⚡
	⊘				☾	


1./ Quel est le symbole situé **au-dessus** du symbole ☀ ?




2./ Quel est le symbole situé **au-dessous** du symbole △ ?




3./ Quel est le symbole situé **entre** les symboles ◻ et △ ?



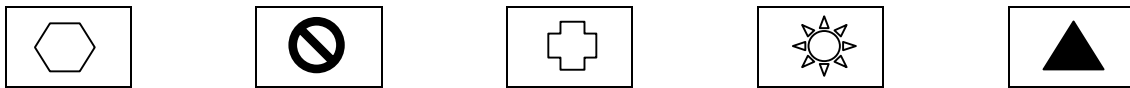
4./ Quel est le symbole situé **entre** les symboles ⬡ et ♥ ?




5./ Quel est le symbole situé **entre** les symboles ◻ et 😊 ?



6./ Quel est le symbole situé **2 cases au-dessus** du symbole ◻ ?



7./ Quel est le symbole situé **3 cases en dessous** du symbole 😊 ?



8./ Quel est le symbole situé **entre** les symboles ▲ et ⚡ ?

