

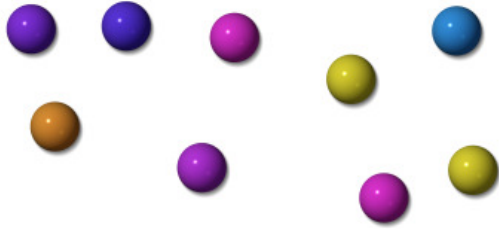


Résoudre des problèmes

Initiation (01)

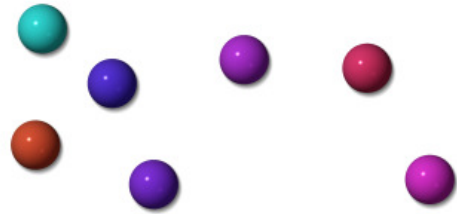
1./ Voici les billes d'Antoine et de son frère Dylan :

Les billes d'Antoine :



Nombre de billes :

Les billes de Dylan :



Nombre de billes :

- Quel enfant a le plus de billes ?

.....

- Antoine et Dylan décident de rassembler toutes leurs billes dans un bocal. Combien ont-ils de billes en tout ?

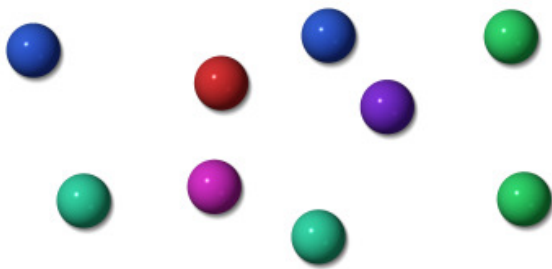
.....

.....

.....

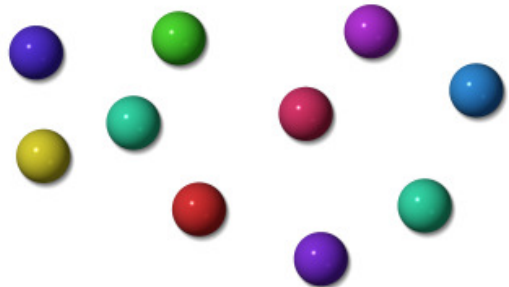
2./ Voici les billes de Kenza et de son frère Elyès :

Les billes de Kenza :



Nombre de billes :

Les billes d'Elyès :



Nombre de billes :

- Quel enfant a le moins de billes ?

.....

- Kenza et Elyès décident de rassembler toutes leurs billes. Combien ont-ils de billes en tout ?

.....

.....

.....