

Prénom :



Date :





L'HISTOIRE DU TEMPS

Les saisons et les mois (2) – Année civile (C)

1./ Complète le schéma suivant avec les noms des mois et des saisons :

Hiver 			Printemps 			
Janvier	Février	Mars	Avril	Mai	Juin	

Été 			Automne 			
Juillet	Août	Septembre	Octobre	Novembre	Décembre	

2./ Colle les vignettes au bon endroit :

