

SE REPÉRER

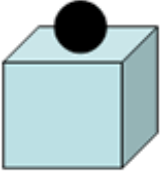
GAUCHE

DROITE

GÉOGRAPHIE

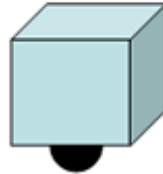
Se repérer : dans l'espace (01)

- Observe ces images et complète les propositions :



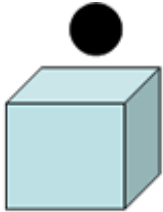
1

La balle est
la boîte.



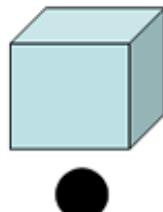
2

La balle est
la boîte.



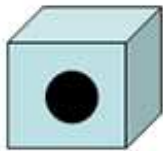
3

La balle est
de la boîte.



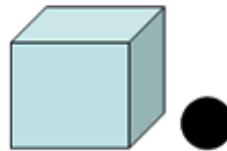
4

La balle est
de la boîte.



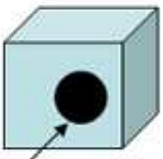
5

La balle est
la boîte.



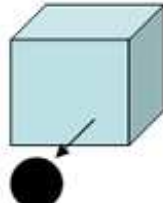
6

La balle est
de la boîte.



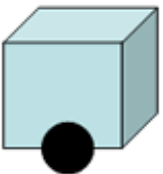
7

La balle est
de la boîte.



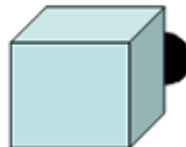
8

La balle est
de la boîte.



9

La balle est
la boîte.



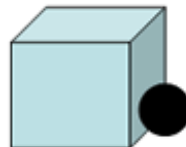
10

La balle est
la boîte.



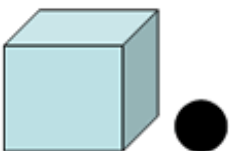
11

La balle est
les boîtes.



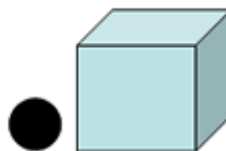
12

La balle est
de la boîte.



13

La balle est
de la boîte.



14

La balle est
de la boîte.



15

Vers le



16

Vers le