



GÉOMÉTRIE

Les triangles (03)


• Les figures géométriques à 3 côtés et 3 sommets : les triangles

1./ Complète le triangle quelconque suivant tel que :

$$AB = 4 \text{ cm}$$

$$BC = 5 \text{ cm}$$


$$AC = 6 \text{ cm}$$




3./ Complète le triangle isocèle suivant tel que :

$$AB = BC = 5 \text{ cm}$$

$$AC = \dots \text{ cm}$$



5./ Complète le triangle ABC rectangle en A tel que $AB = 4 \text{ cm}$



2./ Construis un triangle quelconque tel que :

$$AB = 3 \text{ cm}$$

$$BC = 4 \text{ cm}$$

$$AC = 5 \text{ cm}$$

4./ Construis un triangle équilatéral tel que :

$$AB = BC = CA = 4 \text{ cm}$$

6./ Construis le triangle ABC rectangle en A tel que :

$$AB = 3 \text{ cm}$$

$$AC = 5 \text{ cm}$$