




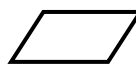


Prénom :

Date :

 <h1 style="margin: 0;">GÉOMÉTRIE</h1>	<h1 style="margin: 0;">GÉOMÉTRIE</h1> <p style="margin: 0;">Les quadrilatères <small>(02)</small></p>
---	---

- Les figures géométriques à 4 côtés et 4 sommets : les quadrilatères

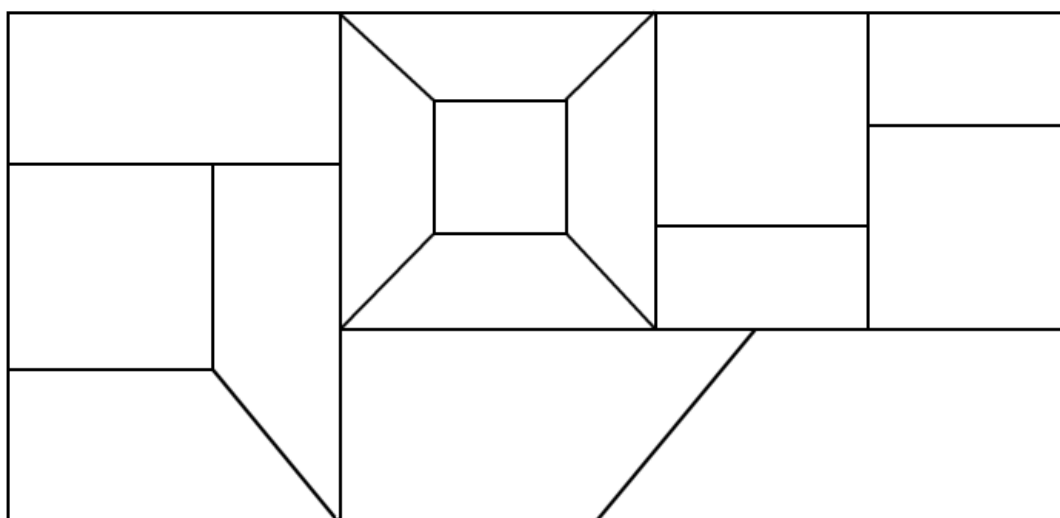
1./ Complète :

	: un carré		: un rectangle
	: un losange		: un parallélogramme
	: un trapèze		: un trapèze rectangle

2./ Complète :

Noms de la figure	Particularités
Le carré	4 côtés égaux et 4 angles droits
Le rectangle	4 côtés égaux 2 à 2 et 4 angles droits
Le losange	4 côtés égaux et aucun angle droit
Le parallélogramme	4 côtés égaux 2 à 2, parallèles et aucun angle droit
Le trapèze	2 côtés parallèles

3./ Combien de quadrilatères composent cette figure :



Carré	Rectangle	Trapèze quelconque	Trapèze rectangle
5	13	4	4