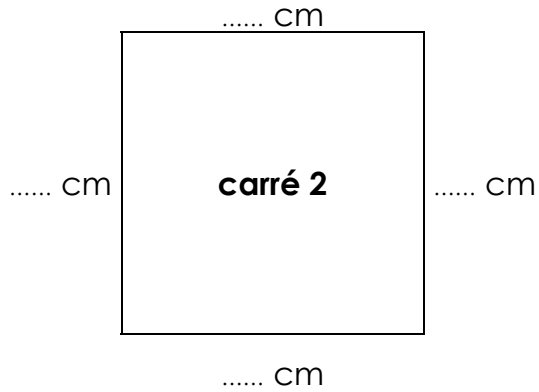
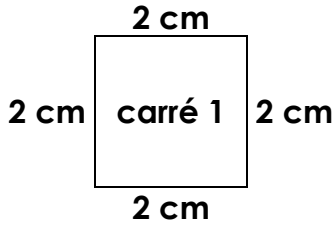




# LES LONGUEURS

Les unités de longueur – Exercices (19)

## Le périmètre du carré



Périmètre du carré 1 :



$$2 + 2 + 2 + 2 = 4 \times 2 = 8 \text{ cm}$$

Périmètre du carré 2 :




$$..... + ..... + ..... + ..... = ..... \times ..... = ..... \text{ cm}$$

**Le périmètre (P) du carré est égal à 4 fois la longueur d'un côté (l).**

$$P = 4 \times l$$


1./ Trace un carré de 3 cm de côté :



- Quel est son périmètre ?

.....  
.....

2./ Trace un carré de 5 cm de côté :



- Quel est son périmètre ?

.....  
.....