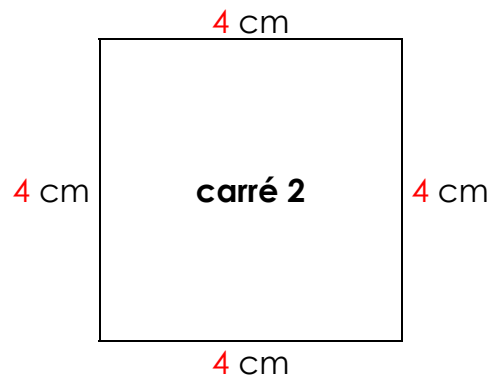
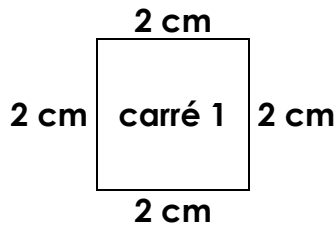




LES LONGUEURS

Les unités de longueur – Exercices (19)

Le périmètre du carré



Périmètre du carré 1 :



$$2 + 2 + 2 + 2 = 4 \times 2 = 8 \text{ cm}$$

Périmètre du carré 2 :

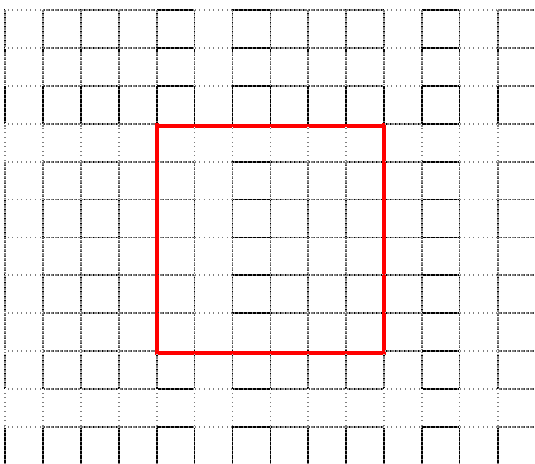


$$4 + 4 + 4 + 4 = 4 \times 4 = 16 \text{ cm}$$

Le périmètre (P) du carré est égal à 4 fois la longueur d'un côté (l).

$$P = 4 \times l$$

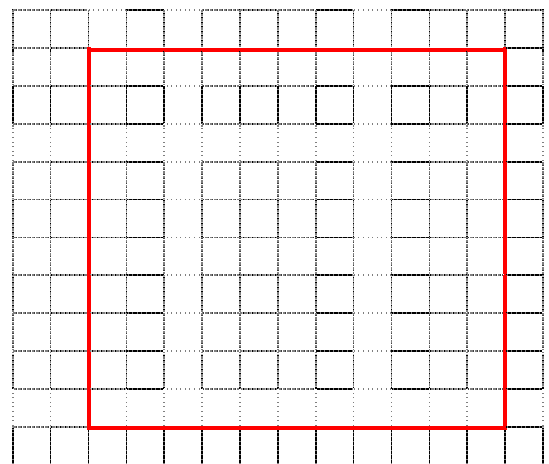
1./ Trace un carré de 3 cm de côté :



- Quel est son périmètre ?

$$3 + 3 + 3 + 3 = 4 \times 3 = 12 \text{ cm}$$

2./ Trace un carré de 5 cm de côté :



- Quel est son périmètre ?

$$5 + 5 + 5 + 5 = 4 \times 5 = 20 \text{ cm}$$