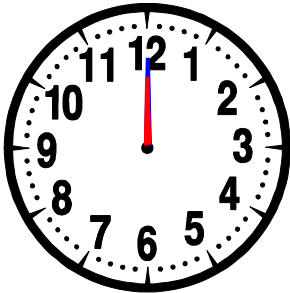





# Lire l'heure... (04)

- Dans une journée il y a **24 heures**.
- Dessine les deux aiguilles sur les horloges suivantes :




00 : 00

il est minuit




06 : 00

il est 6 heures du matin




08 : 30

il est 8 heures et demie du matin




09 : 00

il est 9 heures du matin




10 : 15

il est 10 heures et quart




11 : 45

il est midi moins le quart




12 : 15

il est midi et quart




15 : 00

il est 3 heures de l'après-midi




16 : 30

il est quatre heures et demie




20 : 50

il est 9 heures moins 10



22 : 00

il est 10 heures du soir



00 : 00

il est minuit