









Prénom :

Date :

	<h1 style="margin: 0;">LA MONNAIE</h1> <p style="margin: 0;">Les euros (€) (03)</p>
---	---

1./ Quelle est la somme d'argent représentée ? (Rappel : 100 cts = 1 euro)

 <p style="margin-top: 10px;">1 euro et 9 cts</p>	 <p style="margin-top: 10px;">..... euro(s) et cts</p>	 <p style="margin-top: 10px;">..... euro(s) et cts</p>
 <p style="margin-top: 10px;">..... euro(s) et cts</p>	 <p style="margin-top: 10px;">..... euro(s) et cts</p>	<p style="margin-top: 10px;">6 pièces de </p> <p style="margin-top: 10px;">5 pièces de </p> <p style="margin-top: 10px;">4 pièces de </p> <p style="margin-top: 10px;">..... euro(s) et cts</p>

2./ Dessine les pièces afin de représenter les sommes demandées en utilisant le minimum de pièces :

<p>2 euros et 65 cts</p>	<p>3 euros et 24 cts</p>	<p>4 euros et 82 cts</p>
<p>0 euro et 98 cts</p>	<p>1 euro et 70 cts</p>	<p>3 euros et 49 cts</p>

3./ Pierre a emmené 3 pièces de 50 cts et 3 pièces de 20 cts à la boulangerie. Il veut s'acheter des sucettes qui coûtent 40 cts.

- Combien de sucettes pourra-t-il acheter ?

.....
.....